

2 класс, 2023 г.

Дорогой друг!

Предлагаем тебе решить математические головоломки!  
Желаем удачи и верных решений!

ФИО \_\_\_\_\_

**Задание № 1.**

Позавчера была среда. Какой день недели будет послезавтра?

Обведи верный ответ.

А) воскресенье    Б) понедельник    В) суббота    Г) пятница

**Задание № 2.**

В пачке 5 десятков листов бумаги. Сколько листов нужно добавить, чтобы получилась сотня листов? Обведи верный ответ.

А) 3 листа    Б) 50 листов    В) 93 листа    Г) 33 листа

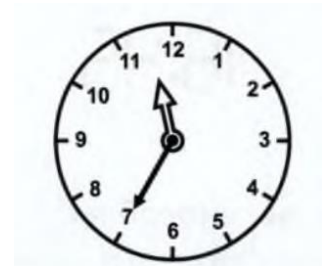


**Задание № 3.**

Через какое время эти часы покажут 12:10?

Обведи верный ответ.

А) через 35 минут    В) через 40 минут  
Б) через 2 часа ровно    Г) через 15 минут



**Задание № 4.**

Серёже год назад было 6 лет. Насте через два года будет 9 лет. Кто из них старше?



Ответ \_\_\_\_\_

**Задание № 5.**

В деревне 3 дома. Каждые 2 дома соединяет дорожка. Сколько всего дорожек?

Ответ \_\_\_\_\_

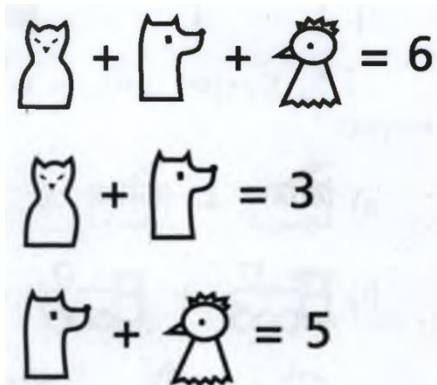
**Задание № 6.**




Иру спросили: «Сколько учеников у вас в классе?». Ира ответила: «Это число меньше 26, но больше 23 и является чётным». Сколько учеников в классе у Иры?

Ответ \_\_\_\_\_

### Задание № 7.

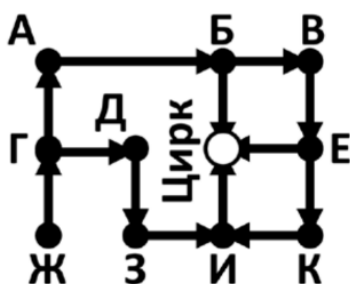
В этих примерах цифры надели на себя маски зверей. Какие цифры прячутся под масками зверей?



|   |   |   |
|---|---|---|
|  |  |  |
|   |   |   |

Ответ:

### Задание № 8.



Фунтик едет в Цирк, ему нужно сесть на автобус и выйти на четвертой остановке. Автобусы ходят по направлениям стрелок, а черные кружочки – это остановки. От какой остановки может ехать Фунтик? Найдите все варианты.

Решение:

\_\_\_\_\_

Ответ: \_\_\_\_\_